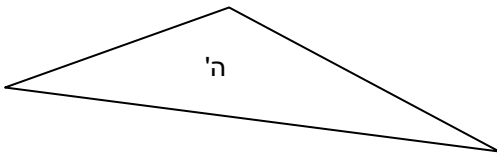
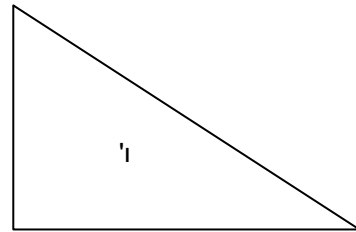
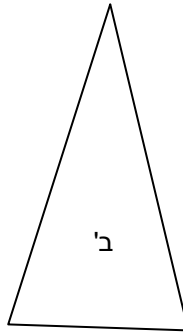
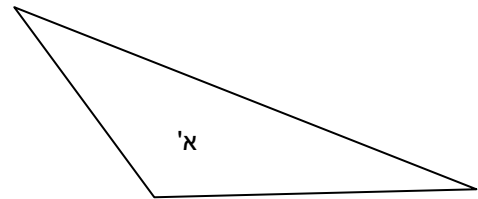
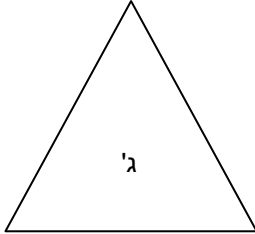


# משולשים וזוויות

לפניכם 3 משולשים.  
בדקו את זוויותיהם וסמנו בטבלה:  
חדה, ישרה או קהה.



השלימו את הטבלה. תנו שם לכל משולש.

שם המשולש	זווית מס' 3	זווית מס' 2	זווית מס' 1	המשולש
				א'
				ב'
				ג'
				ד'
				ה'
				ו'