


## מילוי הוראות ודיוק


צבעו 1 ריבוע ביחק ו 1  
ריבוע בכתום.

כמה ריבועים בסך הכול  
צבעים ?




צבעו 1 ריבוע באדום ו 2  
ריבועים בכחול.

כמה ריבועים בסך הכול  
צבעים ?



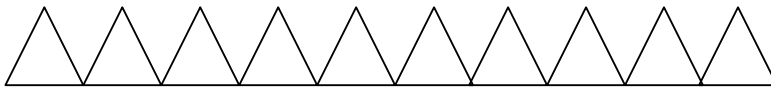
צבעו 1 ריבוע בכחול ו 3  
ריבועים בחד.

כמה ריבועים בסך הכול  
צבעים ?



צבעו 1 משולש בצהוב ו 4  
משולשים בכחול.

כמה משולשים בסך הכול  
צבעים ?



צבעו 1 עיגול בסגול ו 5  
עיגולים בצהוב.

כמה עיגולים בסך הכול  
צבעים ?

